


බස්නාහිර පළාත් අධ්‍යාපන දෙපාර්තමේන්තුව  
 மேல் மாகாணக் கல்வித் திணைக்களம்  
 Department of Education - Western Province

වර්ෂ අවසාන ඇගයීම - 2023 (2024)  
 ஆண்டிறுதி மதிப்பீடு - 2023 (2024)  
 Year End Evaluation - 2023 (2024)

17820

ශ්‍රේණිය தரம் Grade } 11	විෂය புள்ளி Subject } විද්‍යා	පත්‍රය வினாத்தாள் Paper } 1	කාලය காலம் Time } පැය 1 යි
නම பெயர் Name } .....	විභාග අංකය சட்டிලக்கம் Index No. } .....		

සියලු ම ප්‍රශ්නවලට මෙම ප්‍රශ්න පත්‍රයේ ම පිළිතුරු සපයන්න.  
 පහත සඳහන් ඡායාරූපය ඇසුරු කරගෙන අංක 01 සිට 05 තෙක් ප්‍රශ්නවල භික්ෂූන් පූරවන්න.



1. මෙය..... මුද්‍ර පිළිමය නමින් හැඳින්වේ.
2. මෙම ප්‍රතිමාව ..... යුගයට අයත් වේ.
3. මෙම ප්‍රතිමාවේ පාද නිරූපනය කර ඇත්තේ ..... ක්‍රමයට යි.
4. මෙහි දකුණතින් විතර්ක මුද්‍රාවත් වමතින් ..... මුද්‍රාවත් නිරූපනය වන බවට මතයක් පවතී.
5. මෙම ප්‍රතිමාව සඳහා ඉන්දිය ..... කලා නිර්මාණවල ආභාසය ලැබී ඇතැයි සැලකේ.

අංක 06 සිට 10 තෙක් දී ඇති ප්‍රශ්නවලට කෙටි පිළිතුරු සපයන්න.

6. භික්ෂු භක්තිකයන් ආගමික හා ජාතික උත්සවවලදී ගෙබිම සැරසිලි කිරීම සඳහා භාවිත කරන සැරසිලි විශේෂය කුමන නමකින් හැඳින්වේ ද? .....
7. සිරිත්කිරිත් සුන්දරම යන නමින් ප්‍රසිද්ධ දම්පල ජාතික විද්‍යා ශිල්පියා කවුද? .....
8. කාන්තාවන් පස් දෙනෙකුගේ රූප කළයක හැඩයට සම්පිණ්ඩනය කොට කරන ලද නිර්මාණය කුමන නමකින් හැඳින්වේ ද? .....
9. කොළඹ ජාතික කලාභවනේ නිත්‍ය ප්‍රදර්ශනයට තබා ඇති "උඵ පෙරරණුව" නම් සිතුවම නිර්මිත මාධ්‍ය කුමක් ද? .....
10. ලාක්ෂා කර්මාන්තයේ දී භාවිත වන එක් ශිල්ප ක්‍රමයක් පට්ටල් වැඩ වන අතර අනෙක් ශිල්ප ක්‍රමය කුමක් ද? .....

අංක 11 සිට 15 තෙක් දී ඇති එක් එක් ප්‍රශ්නවලට වඩාත් නිවැරදි පිළිතුර කෝරා ඊට යටත් ඉරක් ආදීන්හ.

- 11. ලියනාසෝ ඩාවින්චිගේ “ අවසන් භෝජන සංග්‍රහය ” නම් වූ සිතුවම දක්නට ලැබෙන්නේ,
  - i. සිස්ටයින් දෙව් මැදුරේ ය.
  - ii. ප්‍රංශයේ ලුවර් කෞතුකාගාරයේ ය.
  - iii. ශාන්ත මරියා ඩෙලාග්‍රෙසි නාපයාරාමයේ ය.
  - iv. බ්‍රිතාන්‍ය ජාතික කෞතුකාගාරයේ ය.

- 12. පැබ්ලෝ පිකාසෝගේ “ අවිග්නෝන්හි යුවතියෝ ” සිතුවම අයත් වන්නේ,
  - i. සානිකවාදයට ය.
  - ii. උපස්තීවිවාදයට ය.
  - iii. යුරෝපීය ස්වභාවිකවාදයට ය.
  - iv. අධිනාත්විකවාදයට ය.

- 13. ක්‍රි.පූ.1 වන සියවසේ දී වලගම්බා රජු විසින් “ ගිරි ” නමැති නිගණ්ඨාරාමය නිමැස්වූ ස්ථානයේ ඉදි කළ ස්ථූපය වනුයේ ,
  - i. ප්‍රසාරාමය යි.
  - ii. රත්කොත් වෙහෙර යි.
  - iii. ජේතවනාරාම යි.
  - iv. අභයගිරිය යි.


- 14. අවුකන බුදුපිළිමය සම්බන්ධයෙන් වඩාත් නිවැරදි ප්‍රකාශය වනුයේ,
  - i. අමරාවතී පිළිම නිර්මාණයේ දී අවුකන පිළිමයේ බාහිර ලක්ෂණ අනුකරණය කර තිබීමයි.
  - ii. මහ ඉලක්පල්ලම බුදු පිළිමයේ මූලික ලක්ෂණ ආභාස කරගෙන තිබීම යි.
  - iii. අමරාවතී ගුරු කුලය තුළින් බිහි වූ හිටි බුදු පිළිමවල බාහිර ලක්ෂණ භාවිත කර තිබීම යි.
  - iv. ඉන්දීය ශිල්පීන් විසින් අමරාවතී ලක්ෂණ සහිතව නිර්මාණය කර තිබීම යි.

- 15. කප පෙත්ත විසිකරන්නා මූර්තිය ,
  - i. ක්‍රියාකාරී වලන ඉරියව්වක් නිරූපිත ප්‍රැක්සිටැලස්ගේ නිර්මාණයකි.
  - ii. කිරිගරුඬ මාධ්‍යයේ අති දක්ෂයකු වූ මයිරන් ගේ නිර්මාණයකි.
  - iii. මානව රුවේ සංකීර්ණ ඉරියව් නිරූපිත ග්‍රීක මූර්තියකි.
  - iv. ක්‍රියාකාරී වලන ඉරියව් සහිත කිරිගරුඬ මාධ්‍යයෙන් කළ පීඩියස්ගේ මූර්තියකි.


අංක 16 සිට 20 තෙක් දී ඇති වචනවල අර්ථය පැහැදිලි වන සේ සම්පූර්ණ වාක්‍ය බැගින් ලියන්න.

- 16. මනාර් :- .....
- 17. ප්‍රනාර් :- .....
- 18. සෝලියස් මෙන්ඩිස් :- .....
- 19. මේසලනා :- .....
- 20. පර්ධාවලෝකය :- .....


අංක 21 සිට 25 තෙක් දී ඇති රූප සටහන්වලට කිසියම් සබඳතාවක් දක්වන රූප සටහන ඉදිරියෙන් ඇති A, B, C, D සහ E යන රූප අතුරෙන් තෝරා එහි අක්ෂරය තිත් ඉර මත ලියන්න.



(.....)



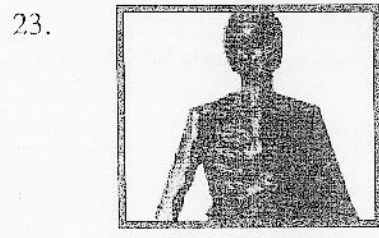
A




(.....)




B



(.....)




C




(.....)



D



(.....)



E

අංක 26 සිට 30 තෙක් දී ඇති එක් එක් වාක්‍යයෙහි හිස් තැනට සුදුසු වචනය/ වචන යොදා වාක්‍ය සම්පූර්ණ කරන්න.

26. වියළි හුණු බදාමය මත පාෂණයෙන් තනාගත් වර්ණ භාවිතයෙන් චිත්‍ර ඇදීමේ සාම්ප්‍රදායික ශිල්පක්‍රමය .....  
..... ලෙස හඳුන්වයි.

27. ඊළිච්ඤ කලා නිර්මාණවල දැකිය හැකි ශෛලිගත සම්ප්‍රදායෙන් මිදී..... ශෛලිය  
..... ප්‍රකාශ දැකීම නෙරට්ටි ප්‍රතිමාව නිර්මාණය කර ඇත.


28. යුරෝපීය ප්‍රාග් ඓතිහාසික ගුහා සිතුවම් අතර දක්නට ලැබෙන අඩි 17 ක් දිග බයිසන් ගව රූව.....  
ගුහාව තුළ දක්නට ඇත.

29. ඉන්දු නිම්න ශිෂ්ටාචාරයෙන් හමු වූ ..... නමැති මුද්‍රාව පශුපති හෙවත්  
ශිව දෙවියන්ගේ මුලාදර්ශයක් විය හැකි බවට සර් ජෝන් මාෂල් පවසා ඇත.


30. කුඩා හිස සහ සරල ව්‍යුත්ක හැඩ භාවිතයෙන් මුර්ති නිර්මාණය කළ ..... එංගලන්ත ජාතික  
මුර්ති ශිල්පියෙකි.



අංක 31 සිට 36 තෙක් දී ඇති ප්‍රශ්නවලට F,G,H,I සහ J යන රූප සටහන් ඇසුරෙන් පිළිතුරු සපයන්න.



F.



G.



H.



I.



J.

31. "F" අක්ෂරයෙන් දැක්වෙන ගල් කණු සහිත වාස්තු විද්‍යාත්මක නිර්මාණය කුමන නමකින් හැඳින්වේද?

.....

32. "G" අක්ෂරයෙන් දැක්වෙන සාංචි තොරණ කුමන යුගයකට අයත් වේද? .....

33. "H" අක්ෂරයෙන් දැක්වෙන . "මැඩෝනා ඩෙලා සේදියා" සිතුවම නිර්මාණය කළ ශිල්පියා කවුද?

.....

34. "I" අක්ෂරයෙන් දැක්වෙන . "අප්සරා රුව" සිතුවම උපුටාගෙන ඇත්තේ අප්‍රිකාවේ කිවෙහි ලෙන තුළින් ද?

.....

35. "J" අක්ෂරයෙන් දැක්වෙන සිතුවම තුළින් යුරෝපීය කුමන කලා ශෛලියක් නිරූපණය වේ ද?

.....

වඩ වෙන සපයා ඇති වර්ණ චිත්‍රය හඳුනාගෙන එහි කලාත්මක අගය විග්‍රහ කෙරෙන පරිදි අංක 36 සිට 40 තෙක් දී ඔබේ උප මාතෘකාවලට අදාළ ව අර්ථවත් වාක්‍ය පහක් ලියන්න.  
(ප්‍රශ්නවලට තනි වචනයෙන් පිළිතුරු ලිවීම ලකුණු නොලැබීමට හේතුවක් වේ.)



36. ස්ථානය පිළිබඳව .....

37. තේමාව පිළිබඳව .....

38. ශෛලිය ලක්ෂණ පිළිබඳව .....

39. සාරවත්තය කර ඇති අයුරු .....

40. රේඛාව හා වර්ණ භාවිතය .....